




Time: 10 Minutes	Paper Math 3	Total Marks: 10
-------------------------	---------------------	------------------------

6th Month, 1st Week, 2nd Day	Syllabus: Unit 6. Exercise # 1. Q # 2, 3.
------------------------------	--

Q.1. Measure the length of the given line segments in centimetres and millimetres. (5)

درج ذیل قطعہ خط کی پیمائش سینٹی میٹر اور ملی میٹر میں کریں۔



Q.2. Draw the line segments of the given lengths. (5)

درج ذیل دی گئی لمبائیوں کے قطعہ خط کھینچیں۔




- (i) 1.9cm (ii) 4.2cm (iii) 5.6cm

Time: 10 Minutes	Paper Math 3	Total Marks: 10
-------------------------	---------------------	------------------------

6th Month, 1st Week, 2nd Day	Syllabus: Unit 6. Exercise # 1. Q # 2, 3.
------------------------------	--

Q.1. Measure the length of the given line segments in centimetres and millimetres. (5)

درج ذیل قطعہ خط کی پیمائش سینٹی میٹر اور ملی میٹر میں کریں۔



Q.2. Draw the line segments of the given lengths. (5)

درج ذیل دی گئی لمبائیوں کے قطعہ خط کھینچیں۔

- (i) 1.9cm (ii) 4.2cm (iii) 5.6cm
